



2



de problèmes



A



B



C



D




Léna fait un sourire.

Alexia a des lunettes.

Louise porte un chapeau.

Qui est Camille?

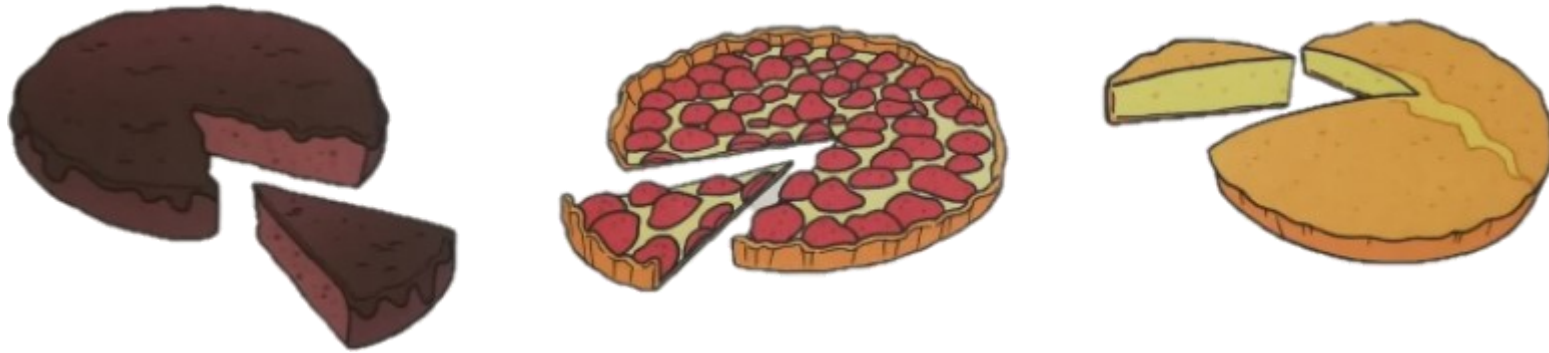
Derrière ce buisson il y a des autruches et des girafes.



On voit 5 têtes et 14 pattes.

Combien de girafes et d'autruches se cachent
derrière le buisson?

Les mamans de Fanny, Charlotte et Emma ont fait des gâteaux.



La maman de Charlotte n'a fait ni le gâteau au yaourt, ni le gâteau au chocolat.

La maman d'Emma n'a fait ni la tarte, ni le gâteau au chocolat.

Quel gâteau chaque maman a-t-elle préparé?

J'ai jeté 3 feuilles en l'air:



La jaune est tombée sur la verte.

La rose est tombée sous la verte.

Quelle feuille est tombée l'avant dernière?



Raptor a 9 œufs.

Il en a 5 de moins que Dilpo.

Combien d'œufs a Dilpo?

Je ne suis pas
Julien !



Je ne suis
pas Mateo !



Paul a un
masque vert !




Qui est qui ?

Une chenille escalade un arbre de 6 mètres de hauteur.

Chaque jour elle monte de 3 mètres mais glisse et descend de 1 mètre.

Elle commence son escalade le mardi.




Quel jour la chenille arrive t-elle en haut de l'arbre?

La feuille marron est tombée après la
feuille jaune.

La feuille rouge est tombée avant la
feuille jaune.

La feuille verte est tombée après la
feuille marron.



Quelle feuille est tombée la première?

Dans son porte-monnaie Léa a:

1 billet de 10 €.


2 pièces de 2€.

5 pièces de 1€.



Serge dit que Léa a 21€.	Cynthia dit que Léa a 19€.
Kays dit que Léa a 20€.	Fanny dit que Léo a 22 €.

Qui a raison?



La peluche de Mathilde n'est pas jaune.

Elle n'a pas de short vert.

Elle n'a pas un pull rouge.

Entoure la peluche de Mathilde.

LE CHIFFRE MYSTERE

Je suis plus grand que 6.
Je suis plus petit que 20.
Je n'ai qu'un seul chiffre.
Je suis un nombre pair.



Qui suis je?



Aujourd'hui c'est mon anniversaire.
Avant-hier, nous étions le 28 mai.

Quel jour sommes-nous?



13 enfants montent dans un bus.

Au premier arrêt, 1 enfant descend.

Un peu plus loin, 3 enfants descendent.

Combien d'enfants reste t-il dans le bus?



**Le lundi 5 mars, c'est l'anniversaire de Léo.
Le lundi suivant, on fêtera celui de Mélanie.**

Quelles t la date d'anniversaire de Mélanie?

La sorcière Camomille avait 3 citrouilles.
La sorcière Pélagie lui a donné des citrouilles.
Maintenant la sorcière Camomille a 9 citrouilles.

Combien de citrouilles la **sorcière Pélagie** a-t-elle donné?